

Тест 1

Теперь с помощью упражнений проверьте себя. Запишите ответы на листочек, чтобы потом проверить правильность ответа.

1.



- а) земляной вал
- б) разрушенная каменная стена
- в) сухая канава

2.



- а) яма
- б) лощина
- в) гора

3.



- а) внемасштабный объект рельефа
- б) воронка
- в) микробугорок

4.



- а) земляной обрыв
- б) земляной вал
- в) основная горизонталь

5.



- а) каменная россыпь
- б) сухая канава
- в) поверхность с микронеровностями

6.





- а) промоина
- б) микроямка
- в) лощина

7.




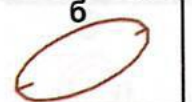

- а) лощина
- б) обрыв
- в) яма

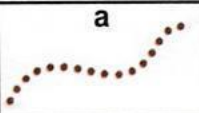

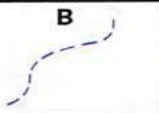
8.  а) группа камней
 б) пещера
 в) микробугорок

9.  а) земляной вал
 б) промоина
 в) земляной обрыв

10.  а) непреодолимая скальная стена
 б) земляной вал
 в) обрыв

Тест 2




1. **яма**
- | | | |
|--|--|--|
| а | б | в |
|  |  |  |

2. **канавка**
- | | | |
|---|---|---|
| а | б | в |
|  |  |  |

3. **внемасштабный объект рельефа**
- | | | |
|---|---|---|
| а | б | в |
|  |  |  |

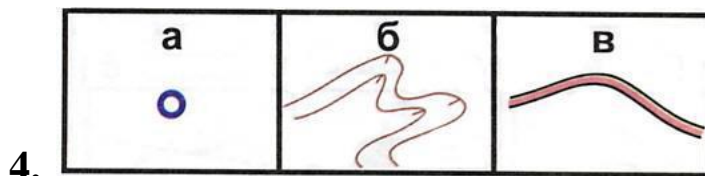
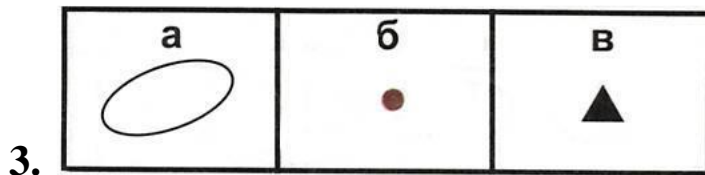
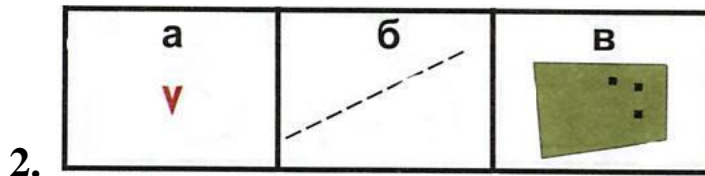
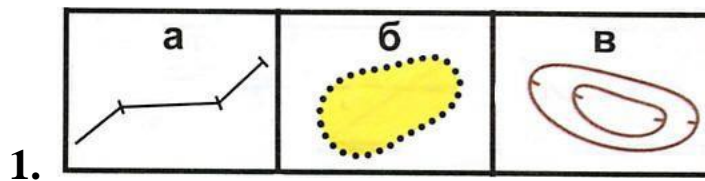
4. **поверхность с микронеровностями**
- | | | |
|---|---|---|
| а | б | в |
|  |  |  |

5.

а	б	в
		

Тест 3

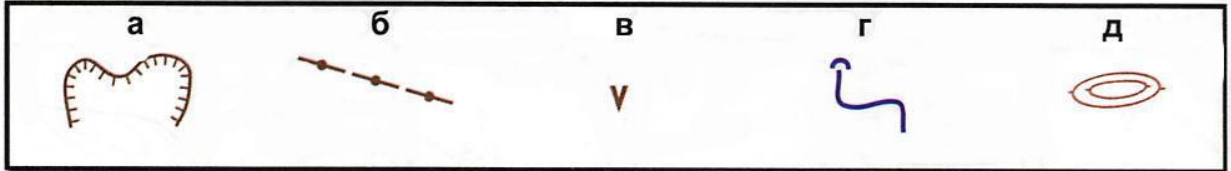
Какой условный знак относится к рельефу?



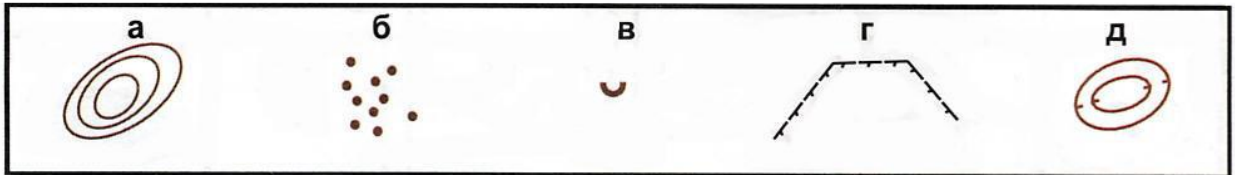
Тест 4

Исключите лишний условный знак.

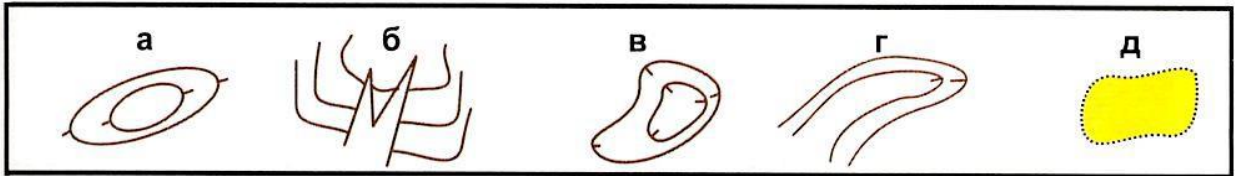
1.



2.



3.



4.

