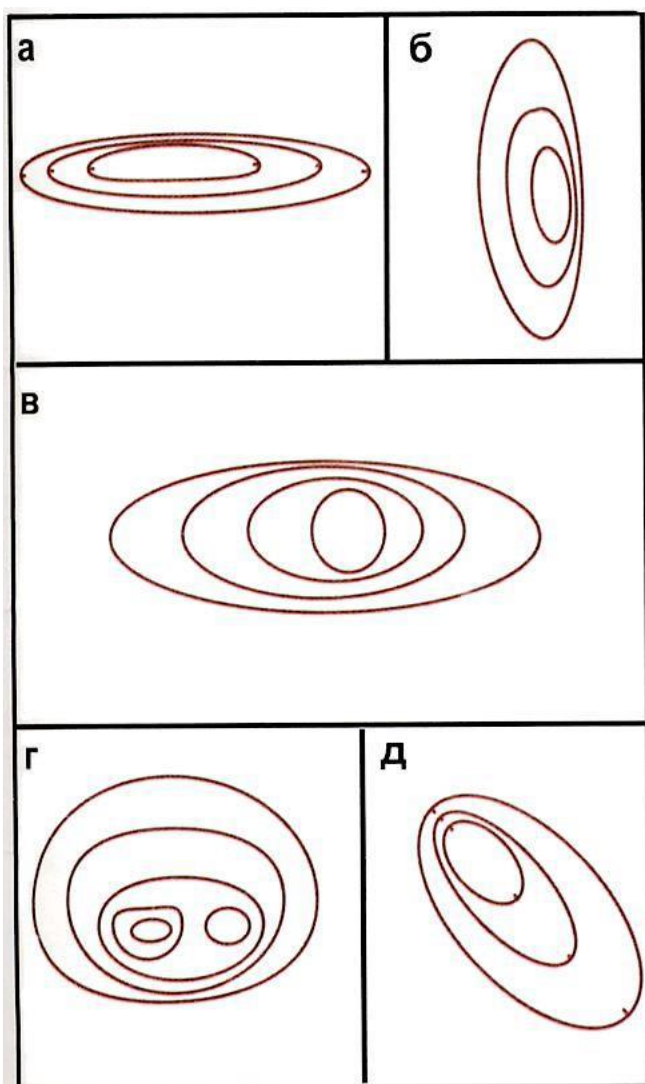


Тест 5

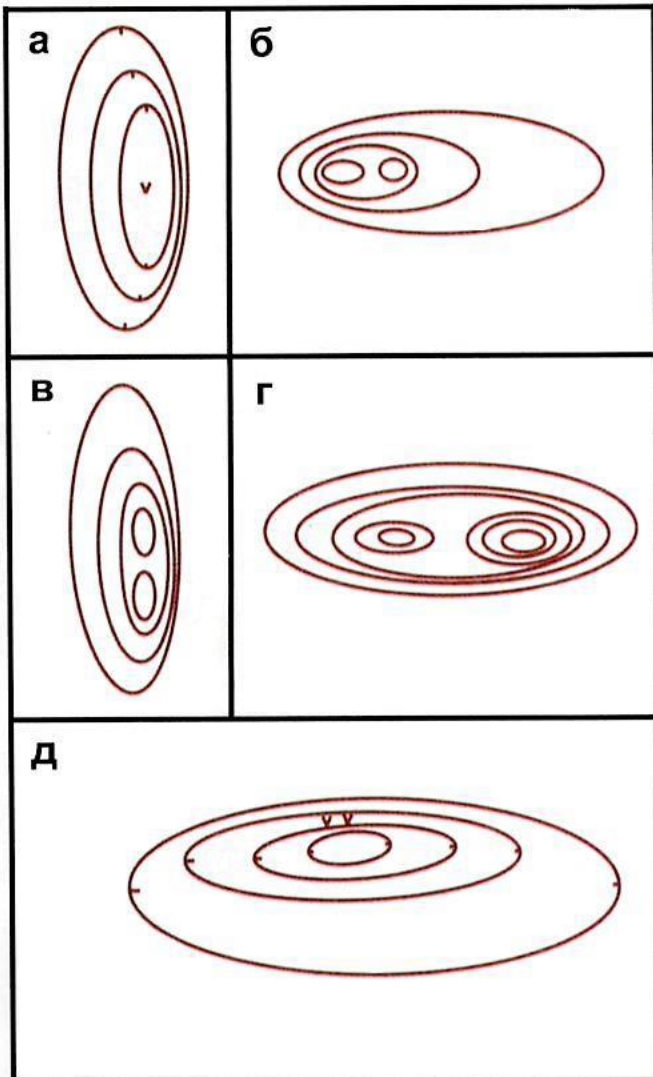
Найдите справа правильное описание для рисунков:



1. Холм имеет две вершины, западная выше. Северный склон пологий.
2. Холм с крутыми северным и южным склонами и слабым уклоном на запад и восток.
3. Яма с крутым подъемом на северо-запад.
4. Яма, вытянутая в направлении запад-восток. Северный склон крутой.
5. Холм вытянут в направлении север-юг, восточный склон крутой

Тест 6


Найдите справа правильное описание для рисунков:



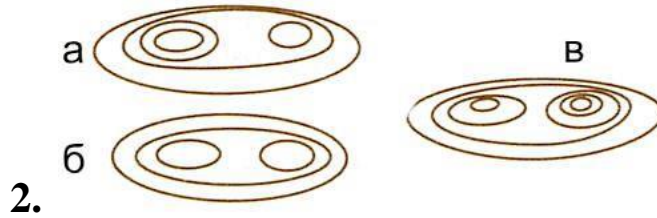
1. Холм вытянут в направлении север-юг.
2. Имеет две вершины, восточный склон крутой.
3. Яма вытянута в направлении запад-восток, южный склон пологий, на северном - две воронки.
4. Холм с двумя вершинами, крутой с запада и пологий с востока.

Тест 7

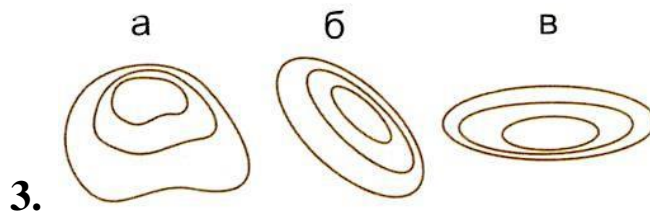
Холм, вытянут в направлении запад-восток. Имеет две вершины.



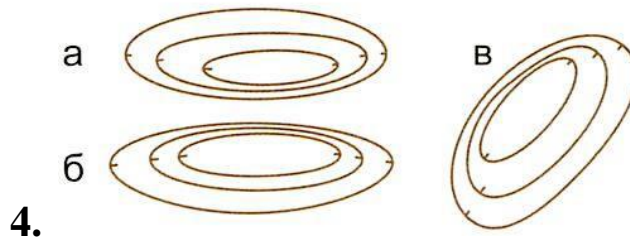
Холм, вытянут в направлении запад-восток. Северный склон крутой. Восточная вершина выше.



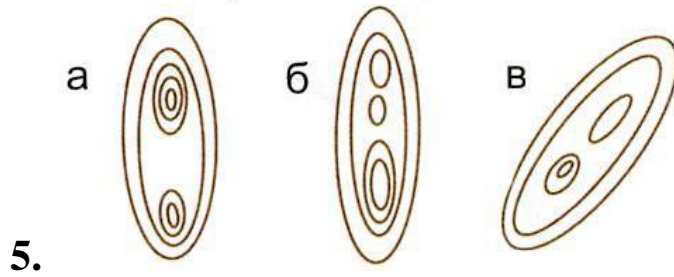
Холм с крутым северным склоном.



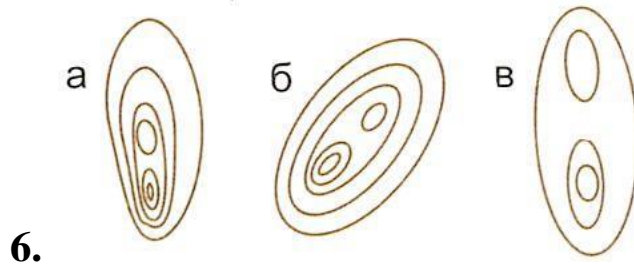
Яма, вытянута в направлении запад-восток. Северный склон пологий.



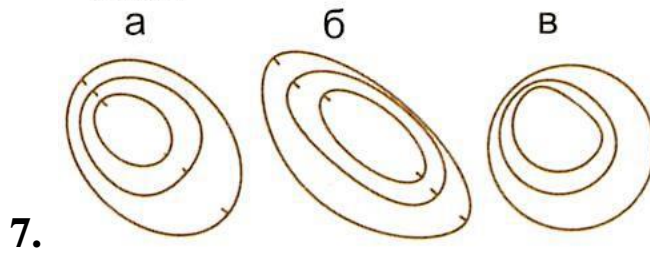
Холм, вытянут в направлении север-юг.
Южная вершина выше.



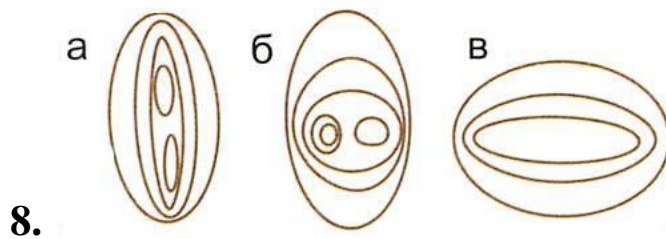
Холм с крутым юго-западным склоном.
Южная вершина выше.



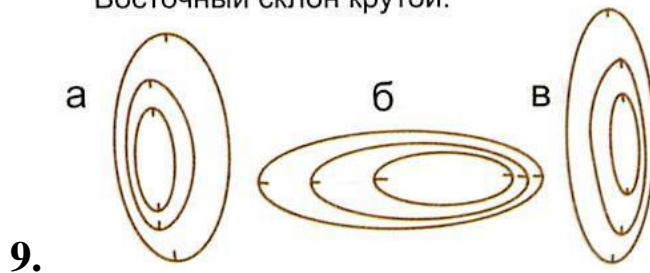
Яма с крутым подъемом на северо-запад.



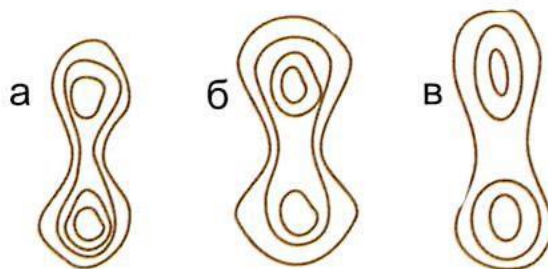
Холм с двумя вершинами. Пологий с севера и юга, крутой с запада и востока.



Яма, вытянута в направлении север-юг.
Восточный склон крутой.




Седловина с высокой южной горой.



10.

а) холм с крутым южным склоном



б) холм, почти круглый, крутой с севера и пологий с юга

в) яма с крутым северным склоном

11.




а) холм с двумя вершинами, крутой с запада и пологий с востока

б) яма с крутым западным склоном

в) холм с двумя вершинами, крутой с востока и пологий с запада

12.

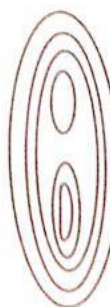


а) холм с крутым западным склоном

б) яма вытянута в направлении север-юг, восточный склон пологий

в) яма с крутым восточным склоном. Вытянута в направлении север-юг

13.




а) яма вытянута в направлении север-юг

б) холм вытянут в направлении север-юг, южная вершина выше

в) холм вытянут в направлении север-юг, северная вершина выше

14.

15.



- а) яма вытянута в направлении север-юг, юго-западный склон крутой
- б) холм с крутым юго-восточным склоном
- в) яма вытянута в направлении север-юг. Юго-восточный склон крутой

16.



- а) холм с двумя вершинами и крутым северо-западным склоном
- б) яма с крутым северо-западным склоном
- в) холм с крутым северо-восточным склоном. Имеет две одинаковые вершины